

primaria 2



Nombre: _____

Curso: _____

Centro: _____

Elige, de cada ficha zoológica la opción adecuada de las señaladas



- Clase: reptil mamífero
Alimentación: Piensos y frutos secos Frutas y verduras
Hábitat: Bosques Africanos islas polares
Tamaño: 8 metros 1,70 metros
Peso: 180kg. 60 kg.
Edad máxima: 30 a 35 años 150 años

- Clase: Mamífero Ave
Alimentación: peces y calamares Frutas y verduras.
Hábitat: Bosques tropicales aguas templadas
Gestación: 25 días de 12 a 13 meses
Edad máxima: 45 a 50 años
3 años
Peso: 230 Kg 400Kg.

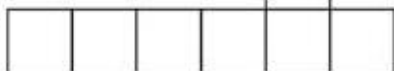


señala los elementos negativos del siguiente paisaje y pon un comentario de cada uno (que crees que puede provocar en la naturaleza, que se podría hacer para que desapareciera, etc.).







Saurio que puede medir hasta dos metros



Reptil muy longevo



Primate con pies préniles.



De la familia de felinos, en ocasiones negro

Nombre de las carpas de Loro Parque




Ave que filtra el alimento con su pico invertido



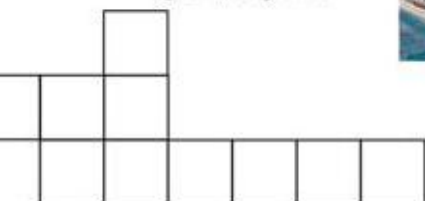
adaptada al frío



El mayor miembro de la familia de los delfínidos



Mamífero acuático de gran inteligencia



de los
liones



Mamífero omnívoro que habita en los bosques lluviosos de África




ave piscívora, con un pico enorme,

Haz dos grupos de animales, pensando en quiénes podrían vivir en el mismo clima. Para ello, piensa en que lugar vive cada uno en la naturaleza, bajo qué clima y de que se alimenta:

Grupo I

Grupo II



Ordena Lógicamente esta secuencia, que trata de la sobrepesca.



SI QUIERES MÁS ACTIVIDADES SOBRE CÓMO CUIDAR
DE LOS ANIMALES Y LA NATURALEZA, NO OLVIDES
VISITAR:

WWW.LOROPARQUE-FUNDACION.ORG

MATERIAL EDUCATIVO PATROCINADO POR:

